





FRACCIÓN DE UN NÚMERO

Publicado por: 5 PRIMARIA C el d 2011-11-04 22:53:34

FRACCIÓN DE UN NÚMERO 


Primero vamos a hacer el cálculo con apoyo gráfico.

 Vamos a calcular $\frac{2}{3}$ de 12 =

Recuerda: $\frac{2}{3}$

- numerador: partes que se toman
- denominador: partes en las que se divide

Dibujamos tres recipientes y repartimos las bolas

 [pincha para que veas el reparto](#)

Respuesta bolas.

SIGUIENTE